


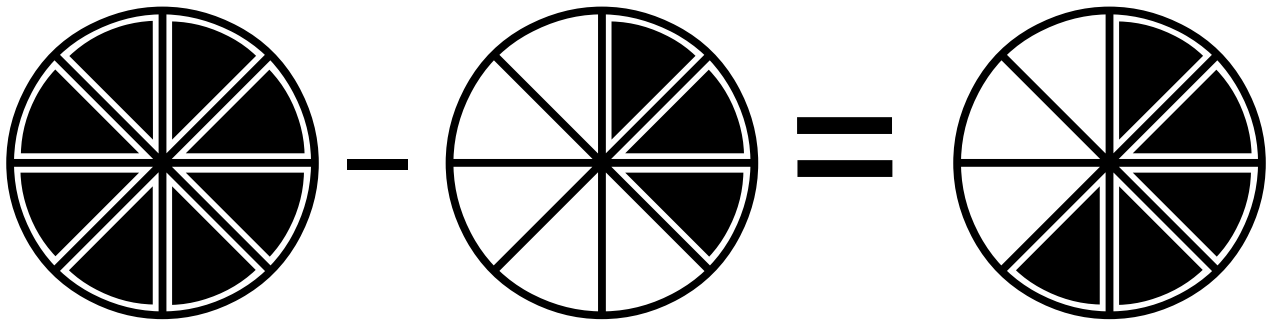
Sumando y restando fracciones y decimales
Participar – Clave de respuestas

Círculos de fracciones

Instrucciones: Usa los círculos de fracción de abajo para resolver el problema.


Jamie y Carson compraron una pizza para la cena. Cortaron la pizza en ocho pedazos. Carson comió ytes pedazos de pizza y Jamie comió 2 pedazos de pizza. ¿Qué fracción de pizza sobró?

Solución posible usando resta:

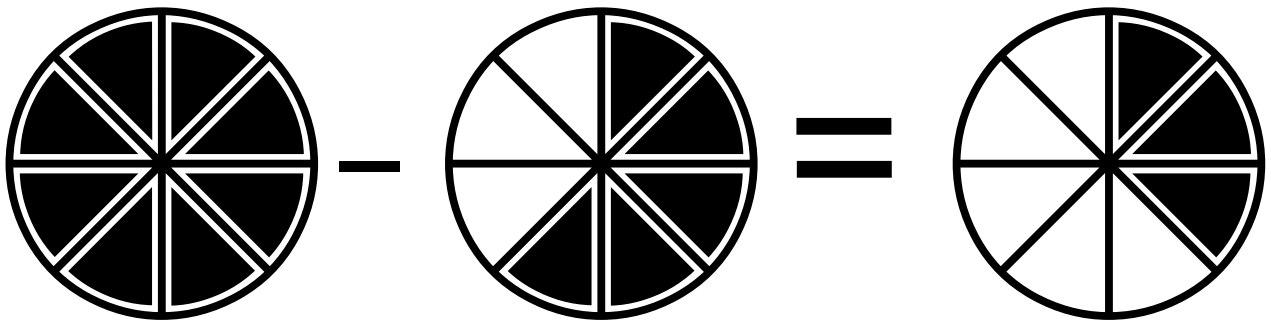


Jamie y Carson compraron una pizza para la cena. Cortaron la pizza en ocho pedazos. Carson comió tres pedazos de pizza y Jamie comió 2 pedazos de pizza. ¿Qué fracción de pizza sobró?

Solución posible usando suma y luego resta:



$$\frac{3}{8} + \frac{2}{8} = \frac{5}{8}$$



$$\frac{8}{8} - \frac{5}{8} = \frac{3}{8}$$

