

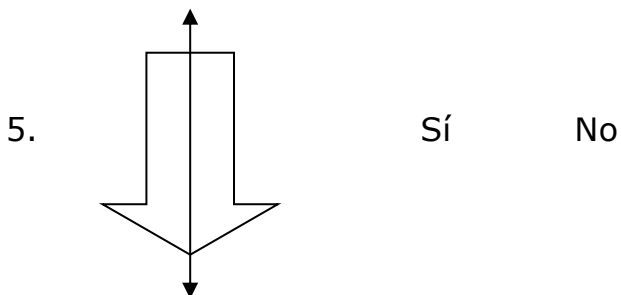
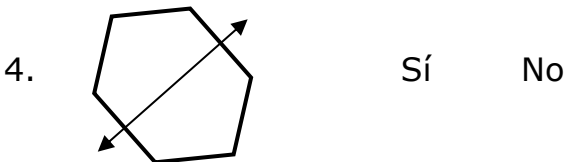
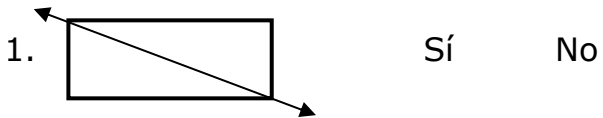


## Reconociendo simetría

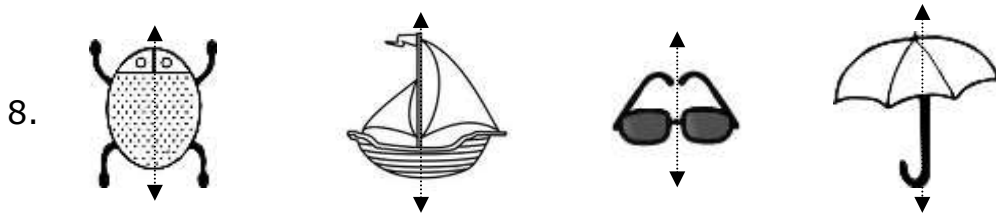
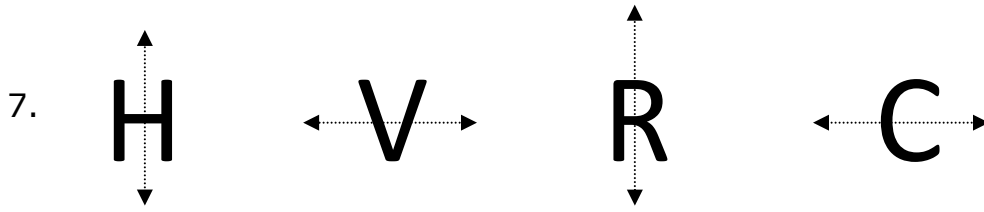
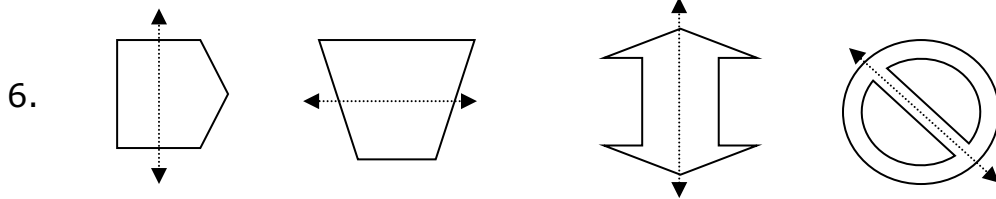
Práctica independiente

**En las preguntas 1-5, pon un círculo en SÍ o NO para contestar:**


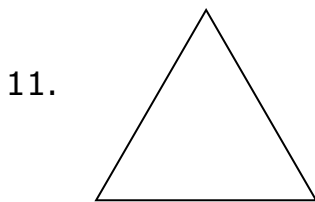

¿Es la línea que se muestra un eje de simetría?



En las preguntas 6-8, pon un círculo alrededor del objeto u objetos en cada conjunto que tienen un eje de simetría dibujado correctamente.




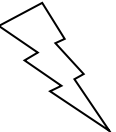
En las preguntas 9 a 12, dibuja todos los ejes de simetría de cada figura.



**En las preguntas 13 - 15, identifica cuántos ejes de simetría tiene cada figura.**

13.  A. 4    B. 3    C. 2    D. 0
- 

14.  A. 4    B. 3    C. 2    D. 0
- 

15.  A. 4    B. 3    C. 2    D. 0

