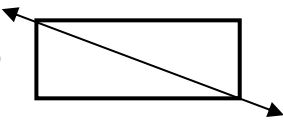




**Reconociendo simetría**  
*Práctica independiente - Clave de respuestas*

**En las preguntas 1-5, pon un círculo en SÍ o NO para contestar:**

¿Es la línea que se muestra un eje de simetría?

1.  Sí  No

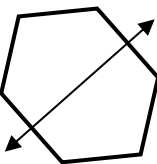
---

2.   Sí  No

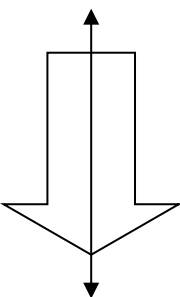
---

3.  Sí  No

---

4.   Sí  No

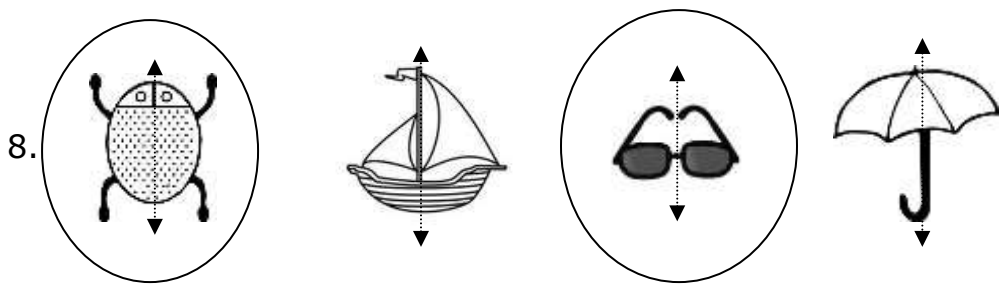
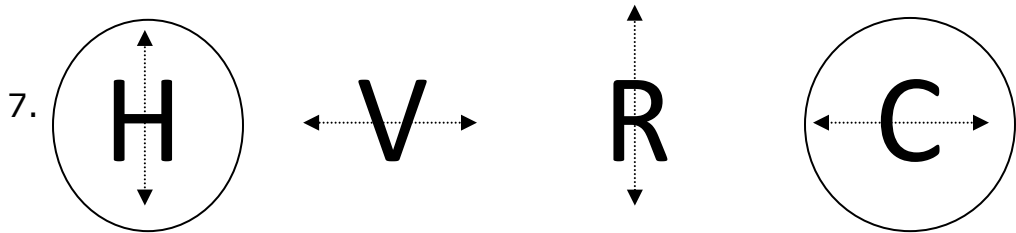
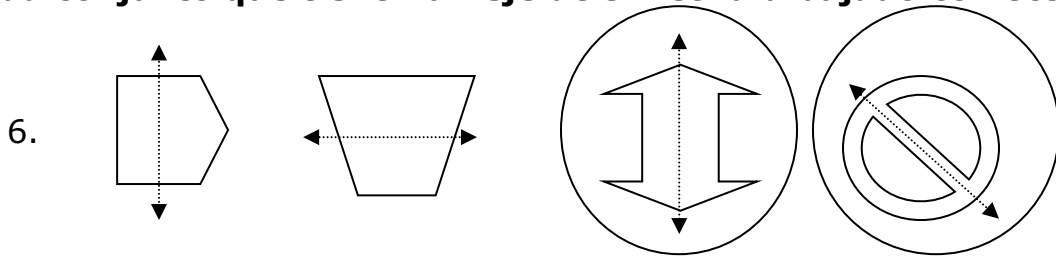
---

5.   Sí  No

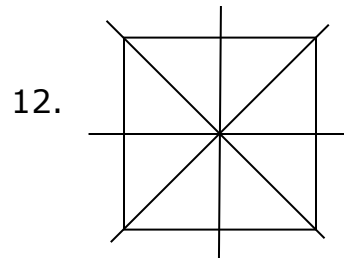
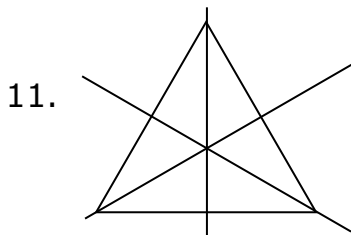
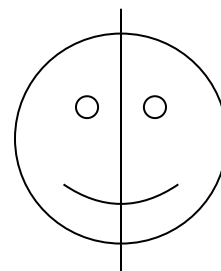
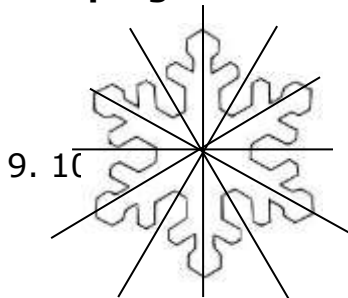
---



En las preguntas 6-8, pon un círculo alrededor del objeto u objetos en cada conjunto que tienen un eje de simetría dibujado correctamente.




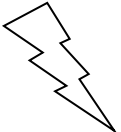
En las preguntas 9 a 12, dibuja todos los ejes de simetría de cada figura.



**En las preguntas 13 - 15, identifica cuántos ejes de simetría tiene cada figura.**

13.  **A. 4**    B. 3    C. 2    D. 0
- 

14.  **A. 4**    B. 3    **C. 2**    D. 0
- 

15.  **A. 4**    B. 3    C. 2    **D. 0**

