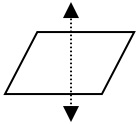

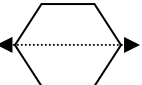
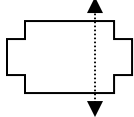








**Reconociendo Simetría**  
*Evaluar: Clave de respuestas*

1 ¿Cuál figura muestra un eje de simetría correcto?

- A 
- B 
- C 
- D 

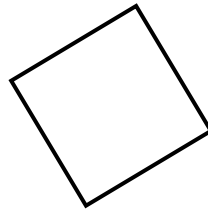
---

2 ¿Cuál de las siguientes figuras **NO** tiene un eje de simetría?

- A 
- B 
- C 
- D 

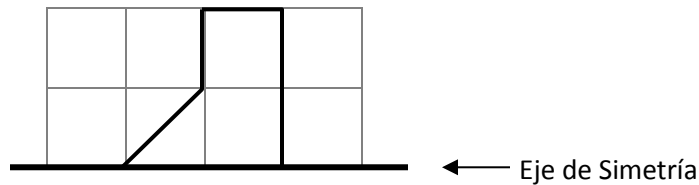


3 El maestro le pidió a Helena que dibujara todos los ejes de simetría de esta figura. ¿Cuántos ejes de simetría dibujó Helena si ella tiene la respuesta correcta?


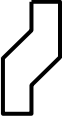




- A 4
- B 3
- C 2
- D 1

4 Alex vio la siguiente imagen en la clase de arte.



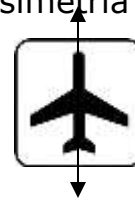
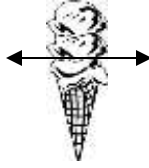
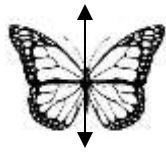
Su maestro le explicó que la línea oscura negra era el eje de simetría y que los estudiantes debían usar lo que han aprendido acerca de eje de simetría para dibujar el resto de la imagen. ¿Cuál figura a continuación, representa la imagen completa?

- A 
- B 
- C 
- D 



Nombre \_\_\_\_\_ Fecha \_\_\_\_\_

5 La Sra. Betty le pidió a su clase que identificara cuáles son las imágenes que aparecen a continuación que muestran los ejes de simetría correctos.



¿Cuáles imágenes muestran los ejes de simetría correctos?

- A Mariposa y Helado
- B Mariposa y Avión
- C Helado y Pelota de béisbol
- D Pelota de béisbol y Avión

