



Multiplicando Números Enteros

Evaluar: Clave de respuestas

1 Oddi juega baloncesto y en un juego hace 10 tiros de dos puntos. ¿Qué expresión mostraría cuántos puntos anotó Oddi?


A 10×1

B $10 + 2$

 C 10×2


D $10 - 2$

2 Abraham le mostró a su grupo de mesa un modelo de una oración numérica usando lápices. Él arregló los lápices en grupos como se muestra a continuación.



¿Cuál oración numérica le mostró Abraham a su grupo de mesa?

A $4 + 3 = 7$

 B $4 \times 3 = 12$

C $12 - 4 = 3$

D $12 \times 3 = 36$



- 3** La Sra. Frable le pidió a su clase escribir una expresión que representara cinco veces 19. Mira la tabla con las respuestas de los estudiantes


Samuel	$5 + 5$
Andy	$5 + 19$
Emma	5×5
Madeline	5×19

¿Cuál estudiante escribió la expresión correcta?


A Samuel

B Andy

C Emma

 **D** Madeline

-
- 4** Darren leyó exactamente 28 páginas cada noche antes de quedarse dormido. ¿Cuántas páginas tenía su libro si terminó de leerlo en 4 días?

 **A** 112 Páginas

B 248 Páginas

C 56 Páginas

D 82 Páginas

-
- 5** Wallace abrió 7 paquetes de sombreros de fiesta para su cumpleaños. Cada paquete tenía 8 sombreros. ¿Cuántas personas tendrán sombreros de fiesta en la fiesta de cumpleaños de Wallace?

 **A** 56

B 78

C 49

D 15

