

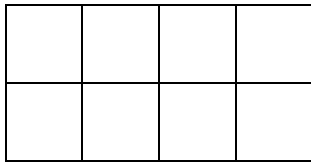


**Midiendo el área**  
*Práctica independiente*

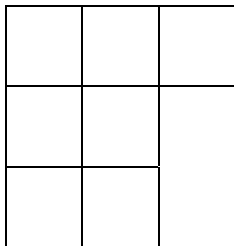
**1** Dibuja un rectángulo con un área de 8 unidades cuadradas.

**2** ¿Qué figura tiene el área más grande?

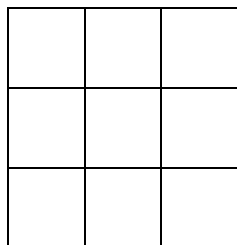
A.



B.

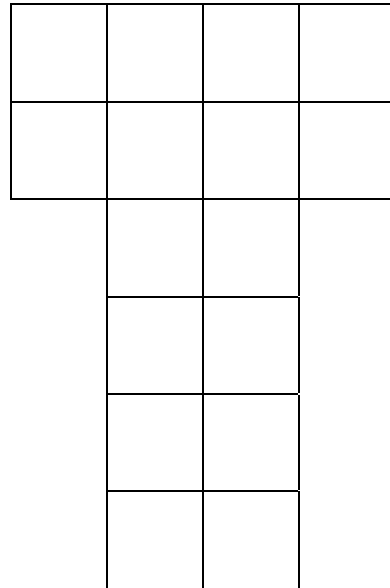


C.

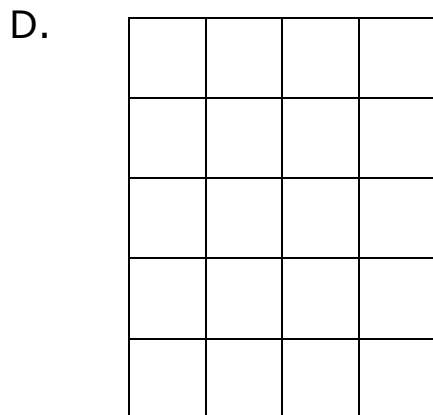
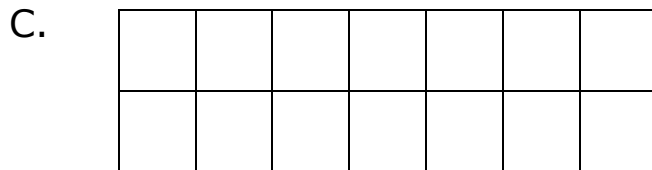
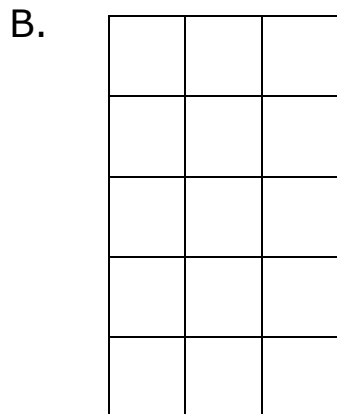



Nombre \_\_\_\_\_ Fecha \_\_\_\_\_

**3** Julie cubrió esta figura con sus cuadrados de colores. ¿Cuál es el área de esta figura?



4 El área de la cobija del cachorrito de Sylvia mide 15 unidades cuadradas ¿Qué figura tiene la misma área?



Nombre \_\_\_\_\_ Fecha \_\_\_\_\_

**5** Dibuja una figura con un área de 10 unidades cuadradas.

**6** Dibuja un rectángulo con un área de 12 unidades cuadradas.

