




Midiendo el área

Práctica independiente – Clave de respuestas

1 Dibuja un rectángulo con un área de 8 unidades cuadradas.

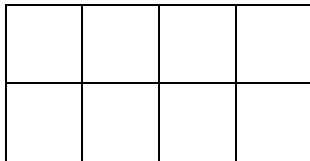
Las respuestas pueden variar pero deben mostrar un rectángulo con 8 cuadrados.

Respuesta posible:

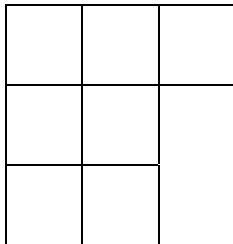


2 ¿Qué figura tiene el área más grande?

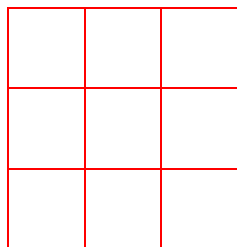
A.



B.

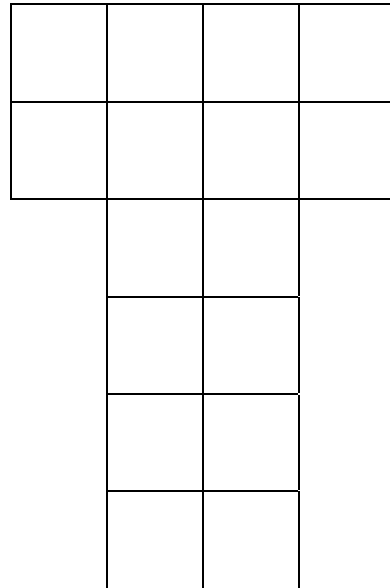


C.



Nombre _____ Fecha _____

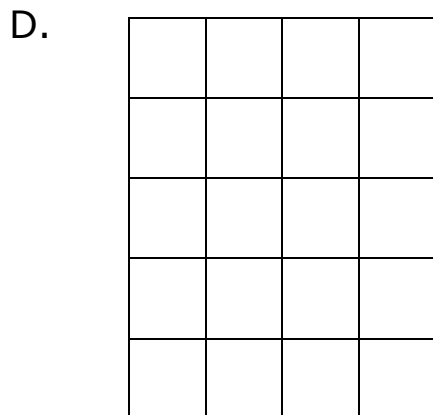


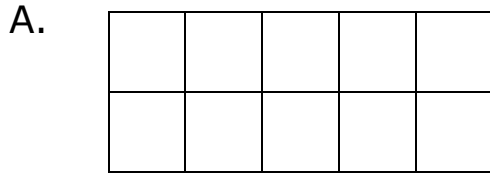
3 Julie cubrió esta figura con sus cuadrados de colores. ¿Cuál es el área de esta figura?



14 unidades cuadradas



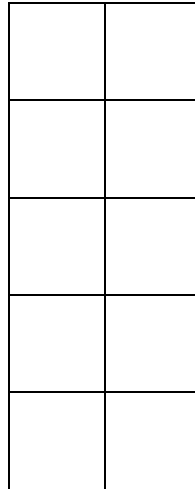
4 El área de la cobija del cachorrito de Sylvia mide 15 unidades cuadradas ¿Qué figura tiene la misma área?



5 Dibuja una figura con un área de 10 unidades cuadradas.

Las respuestas van a variar pero deben mostrar una figura con 10 cuadrados.

Respuesta posible:



6 Dibuja un rectángulo con un área de 12 unidades cuadradas.

Las respuestas van a variar pero deben mostrar una figura con 12 cuadrados.

Respuesta posible:

