




Midiendo el área

Explorar


Determinar el área de cada rectángulo. Escribe el área al lado de cada rectángulo.

1.



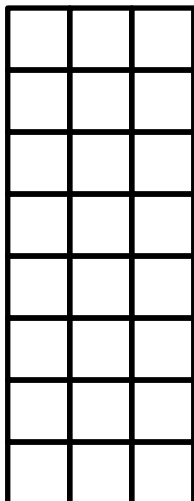
_____ unidades cuadradas

2.



_____ unidades cuadradas


3.



_____ unidades cuadradas




4.




_____ unidades cuadradas

5.



_____ unidades cuadradas

6.



_____ unidades cuadradas

