




Midiendo el área
Explorar – Clave de respuestas


Determinar el área de cada rectángulo. Escribe el área al lado de cada rectángulo.

1.



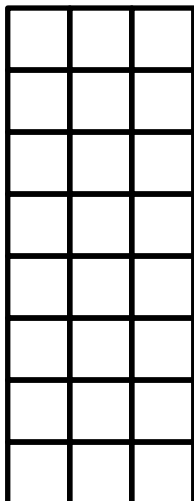
20 unidades cuadradas

2.



12 unidades cuadradas


3.



24 unidades cuadradas




4.




30 unidades cuadradas

5.



35 unidades cuadradas

6.



60 unidades cuadradas

