




Midiendo el área
Evaluar – Clave de respuestas

1. ¿Cuál es el área del rectángulo de abajo?



12 unidades cuadradas

2. ¿Cuál es el área del rectángulo de abajo?



30 unidades cuadradas



3. Jacobey usó mozaicos cuadrados para cubrir el piso en su cocina. Él usó 6 filas de mozaicos y había 4 mozaicos en cada fila. ¿Cuántos mozaicos usó Jacobey? Haz un círculo en tu respuesta.

A 10 mozaicos

B 12 mozaicos

C 24 mozaicos

4. Marisela hizo una alfombra que medía 3 pies de ancho y 5 pies de largo. ¿Cuál es el área de la alfombra?

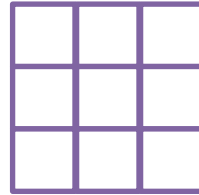
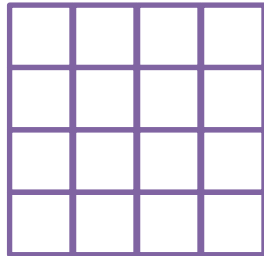
A 8 pies cuadrados

B 15 pies cuadrados

C 16 pies cuadrados



5. Noah construyó dos casas para perros. El piso de cada casa se muestra abajo.



¿Cuánto más grande es la primera casa para perro que la segunda casa para perro? Haz un círculo en tu respuesta.

A 7 unidades cuadradas

B 9 unidades cuadradas

C 16 unidades cuadradas

