

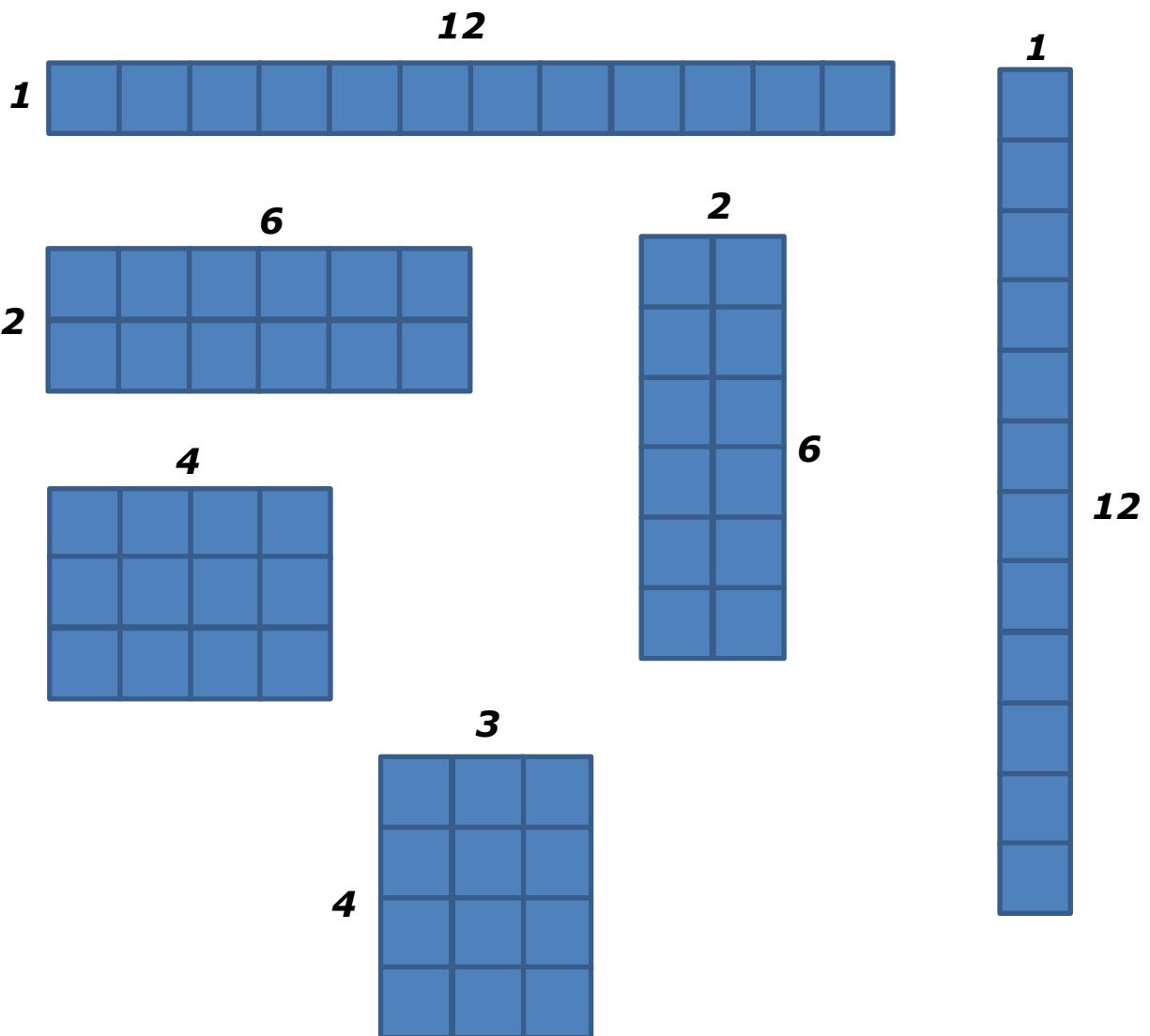


### Midiendo el área


Elaborar – Clave de respuestas

Resuelve cada problema.

1. Usa 12 cuadrados de colores. Crea todos los rectángulos diferentes que puedas crear con los 12 cuadrados. Dibuja cada uno e indica las longitudes de los lados.




2. Jacob está colocando mozaicos en el pasillo. El pasillo mide 5 unidades de largo y 5 unidades de ancho. Usa cuadros de colores para construir un modelo del piso. ¿Cuál es el área?



Área: 25 unidades cuadradas

3. El perro de Sylvia necesita un área para jugar en el patio. El papa de Sylvia marcó un área que medía 10 unidades de largo por 4 unidades de ancho. Dibuja y encuentra el área.



Área: 40 unidades cuadradas

